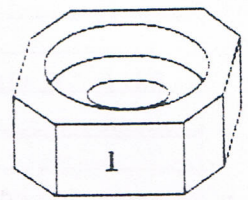
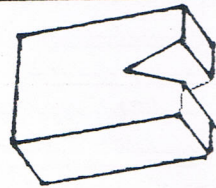
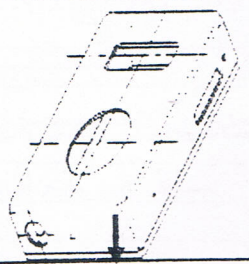
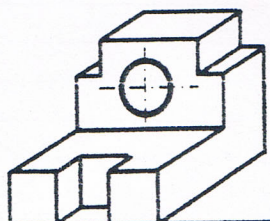


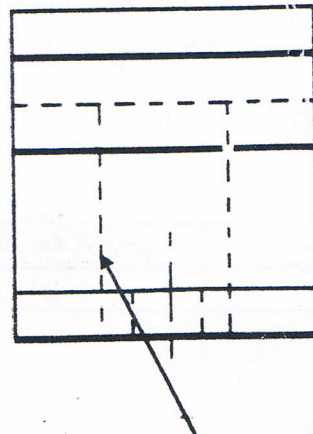
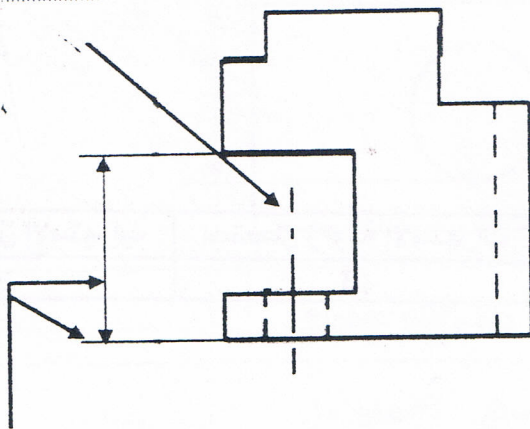
الإسم: .....	اختبار كتابي عـ 03 دد	معهد
اللقب: .....	المادة: تربية تكنولوجية	سليانة
الرقم: .....	القسم: 7 أ 05	التاريخ: 2008 / 04 / 28
	التوقيت: 30 دق	

1 - حدد اتجاه النظر في كل مسقط (8 X 1) ن

20

الرمز	اتجاه النظر	الرسم
..... ..... .....	.....	
..... ..... .....	.....	
..... ..... .....	.....	
..... ..... .....	.....	

2 - تعرف على أنواع الخطوط المستعملة (4 X 1) ن





3 / ا - أنجز على الشبكة رسماً ثلاثي الأبعاد للقطعة التالية (8 ن)

عامل الاستهراب :  $K=0.5$

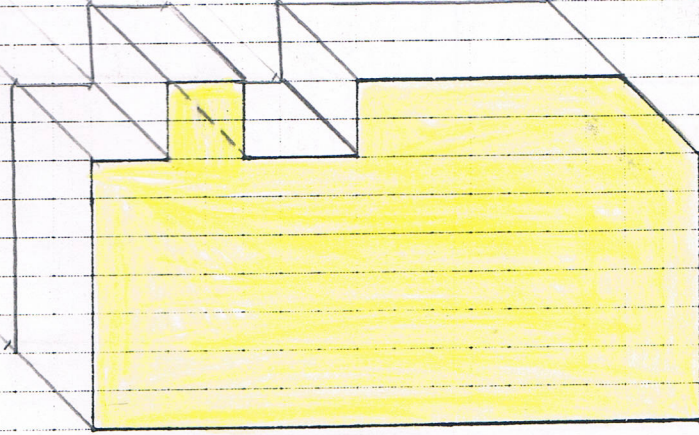
زاوية الاستهراب :  $45^\circ$



اتجاه النظر

السك : 30 مم

ب - قم بتلوين الوجه الأمامي



معايير التقييم

استعمال عامل الاستهراب	استعمال زاوية الاستهراب	تلوين الوجه الأمامي	نظافة الرسم
3 ن	3 ن	1 ن	1 ن